



## الأسئلة

السؤال الأول :-

اكمل العبارات الآتية :-

- ١- ندرس في مادة الدراسات الاجتماعية.....و.....و.....
- ٢- من أدوات الدراسات الاجتماعية.....و.....و.....
- ٣- الصورة هي.....
- ٤- الخريطة هي.....
- ٥- تتكون عناصر الخريطة من.....و.....و.....
- ٦- عنوان الخريطة يوضح.....
- ٧- مفتاح الخريطة هو مجموعه من.....و.....ومدلولاتها ويوجد في أحد.....الخريطة.
- ٨- يساعدنا دليل الرموز والألوان في.....و.....الخريطة.
- ٩- يساعدنا مفتاح الخريطة في قراءة وفهم.....
- ١٠- يوجد في الخريطة.....يشير دائما إلى اتجاه الشمال.
- ١١- يساعدنا اتجاه الشمال في معرفة باقى.....
- ١٢- الجهات الأصلية هي.....و.....و.....
- ١٣- الجهات الفرعية هي.....و.....و.....
- ١٤- اتجاه الشمال الشرقى يقابله إتجاه.....



## دراسات إجتماعية الصف الرابع الابتدائى



- ١٥- إتجاه الشمال الغربى يقابله إتجاه.....
- ١٦- مقياس الرسم هو.....
- ١٧- من أنواع مقياس الرسم.....و.....و.....
- ١٨- الخريطة تساعد الإنسان فى التعرف على.....
- ١٩- تشمل قارات العالم القديم.....و.....و.....
- ٢٠- تشمل قارات العالم الجديد.....و.....و.....
- ٢١- تقع مصر فى قارة.....وتتوسط قارات العالم.....
- ٢٢- تقع مصر فى الركن.....من قارة أفريقيا وتطل على بحرين هما.....و.....
- ٢٣- تطل مصر من الشمال على البحر.....ومن الشرق على البحر.....
- ٢٤- زادت أهمية موقع مصر الجغرافى بعد حفر قناة.....
- ٢٥- ترتب على أهمية موقع مصر زيادة.....فى السيطرة عليها.
- ٢٦- الحدود السياسية هى.....
- ٢٧- تنقسم الحدود السياسية إلى.....و.....
- ٢٨- الحدود البشرية من صنع.....
- ٢٩- الحدود الطبيعية من صنع.....مثل.....و.....و.....
- ٣٠- تتمثل الحدود الشرقية لمصر فى البحر.....وخليج.....وتعد حدوداً.....
- ٣١- يفصل مصر عن فلسطين المحتلة حدود بشرية وهى حدود.....
- ٣٢- الحدود الغربية لمصر هى حدود بشريه.....تفصلها عن دولة.....



## دراسات اجتماعية الصف الرابع الابتدائى



- ٣٣- الحدود الشمالية لمصر تتمثل فى البحر..... وهو يمثل حد طبيعى.....  
لمصر.
- ٣٤- الحدود الجنوبية لمصر هى حدود بشرية..... تفصلها عن جمهوريه.....  
الشقيقة.
- ٣٥- الحدود التى تفصل بين محافظات الجمهورية تسمى حدود.....
- ٣٦- تنقسم مصر إلى..... محافظة.
- ٣٧- تعد..... هى عاصمة جمهورية مصر العربية.
- ٣٨- تتكون كل محافظة من..... أو..... ولكل محافظه.....
- ٣٩- السطح هو.....
- ٤٠- من المرتفعات..... و..... و.....
- ٤١- تنقسم السهول إلى..... و.....
- ٤٢- اللون البنى على الخريطة يدل على المناطق.....
- ٤٣- اللون الأصفر على الخريطة يدل على المناطق.....
- ٤٤- اللون الأخضر على الخريطة يدل على المناطق.....
- ٤٥- اللون الأخضر الداكن على الخريطة يدل على المناطق.....
- ٤٦- اللون الأزرق على الخريطة يدل على المناطق.....
- ٤٧- أعلى قمة جبلية فى مصر تتمثل فى جبل..... فى جنوب سيناء.
- ٤٨- أقل الأجزاء انخفاضاً تتمثل فى منخفض..... الذى يزيد عمقه على..... متر.
- ٤٩- من أمثله البحيرات العذبة بحيره..... ومن البحيرات المالحة بحيرة.....



## دراسات اجتماعية الصف الرابع الابتدائى




- ٥٠- يعتبر نهر..... فى مصر هو أطول أنهار العالم.
- ٥١- قديماً نقش الإنسان المصرى مظاهر حياته على..... و.....
- ٥٢- تنقسم عصور ما قبل التاريخ إلى..... و..... و.....
- ٥٣- ينقسم عصر المعادن إلى عصر..... وعصر.....
- ٥٤- عصور ما قبل التاريخ هى.....
- ٥٥- العصور التاريخية هى.....
- ٥٦- عاش الانسان فى العصور القديمة فوق..... وكان دائم..... و.....
- ٥٧- كانت حياة المصرى القديم..... ومملوءة ب..... و.....
- ٥٨- عرف المصرى القديم..... واستخدمها فى طهى الطعام و.....
- ٥٩- استقر المصرى القديم فى..... على ضفاف نهر..... وعرف..... و.....
- ٦٠- بنى المصرى القديم مساكنه من..... وغطى سقفاها ب..... ثم من.....
- ٦١- تطورت حياة المصرى القديم فصنع أدواته واستخدمها فى..... كما صنع ملابسه من..... و.....
- ٦٢- صنع المصرى القديم بعض التماثيل من..... و.....

### السؤال الثانى:-

### ضع بين القوسين ما تشير إليه العبارة:-

- ١- لقطة لجزء من سطح الأرض باستخدام آلة التصوير وتظهر الأشياء فى الصور كما هى فى الحقيقة.  
( )
- ٢- رسم توضيحي لجزء من سطح الأرض باستخدام مجموعه من الرموز والألوان وبمقياس رسم محدد.  
( )



## دراسات اجتماعية الصف الرابع الابتدائى



٣- النسبة بين المسافة على الخريطة وما يقابلها على الطبيعة.  
( )

٤- خطوط تحدد الدولة وتفصلها عن جيرانها من الدول وتحفظ حقوقها داخل هذه الحدود.  
( )

٥- الحدود التى صنعها الإنسان.  
( )

٦- الحدود من صنع الله مثل البحار والأنهار والجبال.  
( )

٧- حدود تفصل بين محافظات الجمهورية.  
( )

٨- شكل الأرض بما تتضمنه من مرتفعات وسهول ومنخفضات.  
( )

٩- أرض شديدة الارتفاع ولها قمة وجوانبها شديدة الانحدار.  
( )

١٠- مساحة واسعة من الأرض مرتفعة مستوية أو شبه مستوية السطح.  
( )

١١- مساحة من الأرض مستوية تمتد على طول ساحل البحر.  
( )

١٢- مساحة من الأرض مستوية قليلة الارتفاع وتتكون من رواسب الأنهار وتتمثل فى  
الأراضى الممتدة على جانبى نهر النيل ودلتاه.  
( )

١٣- الخط الفاصل بين اليابس والماء ومنسوبه صفر.  
( )

١٤- أرض منخفضة عما حولها وأشهرها فى مصر منخفض القطارة.  
( )

١٥- مساحة من اليابس تحيط بها المياه من جميع الجهات مثل جزيرة شوان.  
( )



## دراسات اجتماعية الصف الرابع الابتدائى



- ١٦- مساحة من اليابس تحيط بها المياه من ثلاث جهات مثل شبه جزيرة سيناء.  
( )
- ١٧- مساحة واسعة من الماء المالح ذات أعماق كبيرة مثل المحيط الهندى.  
( )
- ١٨- مساحة من الماء المالح أصغر من المحيط مثل البحر المتوسط والبحر الأحمر.  
( )
- ١٩- مساحة صغيرة من الماء العذب أو الماء المالح.  
( )
- ٢٠- امتداد الماء المالح داخل اليابس ومنها خليج السويس وخليج العقبة.  
( )
- ٢١- مجارى مائية عذبه مثل نهر النيل.  
( )
- ٢٢- بقايا النباتات والحيوانات الميتة منذ الأف السنين.  
( )
- ٢٣- معدن صنع منه الانسان أدواته وكانت كثيرة فى شبه جزيرة سيناء.  
( )
- ٢٤- كتابه عبر المصرى القديم عنها بالرسم فى شكل صور للانسان والحيوان والطيور وغيرها.  
( )
- ٢٥- شعور الإنسان بالتزامه تجاه زراعته وكيفيه الحفاظ عليها وكذلك إلتزامه نحو أسرته وجيرانه.  
( )
- ٢٦- شعور الإنسان بأنه جزء من المجتمع الذى يعيش فيه.  
( )
- ٢٧- شعور الإنسان المصرى بالحب والقرب تجاه الأرض التى عاش عليها وتكون لديه ولاء لها ولمن حوله.  
( )



## دراسات اجتماعية الصف الرابع الابتدائي



### السؤال الثالث:-

#### بم تفسر:-

(١) أهمية عنوان الخريطة.

.....

(٢) أهمية مفتاح الخريطة.

.....

(٣) أهمية اتجاه الشمال (سهم الشمال).

.....

(٤) أهمية الخريطة.

.....

(٥) يطلق على قارات العالم القديم هذا الاسم.

.....

(٦) يطلق على قارات العالم الجديد هذا الاسم.

.....

(٧) أهميه موقع مصر الجغرافي.

.....

(٨) أهميه قناة السويس.


.....

(٩) أهميه إختراع الكتابه (الهيروغليفية).

.....

(١٠) كانت حياة المصري القديم غير مستقرة فوق الهضاب.

.....



# دراسات اجتماعية الصف الرابع الابتدائى



(١١) أهميه اكتشاف النار.

(١٢) تبدلت حياة المصرى القديم من التنقل والترحال إلى الاستقرار فى الوادى.

(١٣) استقرار المصرى القديم فى الوادى.

## السؤال الرابع:-

### ما النتائج المترتبة على:-

(١) أهمية موقع مصر.

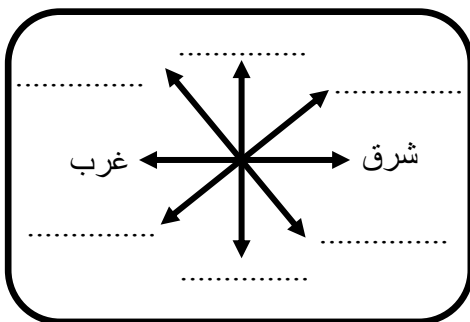
(٢) قيام مصر بحفر قناة السويس الجديدة.

(٣) حدود مصر واضحة ومميزة ومعترف بها بين الدول المحيطة ودول العالم.

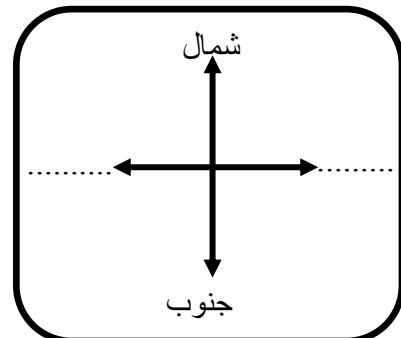
(٤) تطور حياة المصرى القديم.

## السؤال الخامس:

### اكمل الأشكال الآتية:-



الجهات الفرعية



الجهات الأصلية



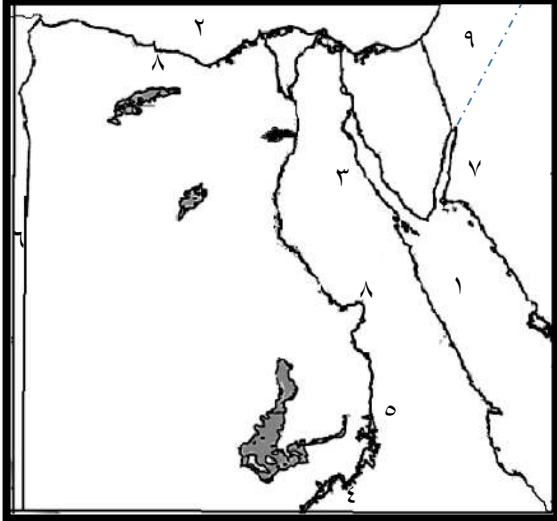


## دراسات اجتماعية الصف الرابع الابتدائى

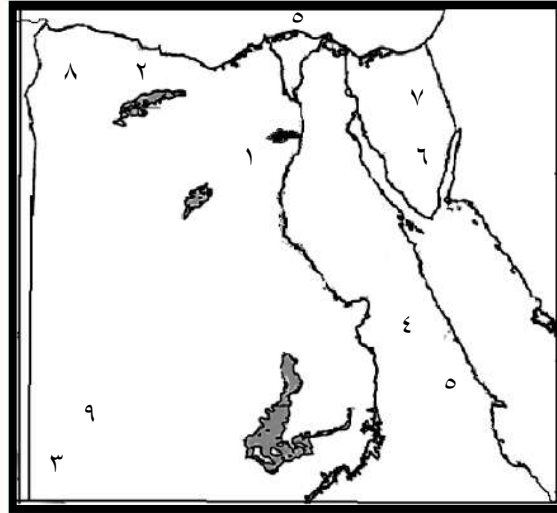


### السؤال السادس:-

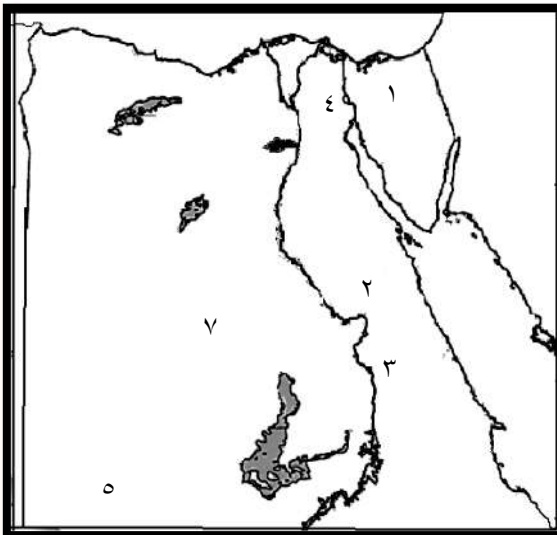
أمامك خرائط صماء لمصر وضع ما تدل عليه الأرقام:-



- (١)
- ١- البحر.....
- ٢- البحر.....
- ٣- خليج.....
- ٤- بحيرة.....
- ٥- السد.....
- ٦- دولة.....
- ٧- خليج.....
- ٨- نهر.....
- ٩- دولة.....



- (٢)
- ١- منخفض.....
- ٢- منخفض.....
- ٣- جبل.....
- ٤- الصحراء.....
- ٥- جبال.....
- ٦- جبل.....
- ٧- هضبة.....
- ٨- هضبة.....
- ٩- هضبة.....



- (٣)
- ١- شبه جزيرة.....
- ٢- الصحراء.....
- ٣- نهر النيل.....
- ٤- قناة السويس.....
- ٥- الصحراء.....
- ٦- دولة.....





## الإجابة

السؤال الأول :-

اكمل العبارات الآتية :-

- ١- أشكال السطح و أحوال المناخ و تاريخ البلاد.
- ٢- كرة أرضيه وخرائط وكمبيوتر و مكتبه.
- ٣- لقطة لجزء من سطح الأرض بإستخدام آلة التصوير حيث تظهر الاشياء فى الصورة كما هى فى الحقيقه.
- ٤- رسم توضيحي لسطح الأرض أوجزء منه بإستخدام الرموز والألوان ومقياس رسم معين.
- ٥- عنوان الخريطة و مفتاح الخريطة و اتجاه الشمال ومقياس الرسم.
- ٦- ما تحتويه الخريطة من بيانات.
- ٧- الرموز و الألوان – أركان.
- ٨- قراءة – فهم.
- ٩- الخريطة.
- ١٠- سهم.
- ١١- الإتجاهات.
- ١٢- الشمال والجنوب والشرق والغرب.
- ١٣- الشمال الشرقى والجنوب الشرقى والشمال الغربى والجنوب الغربى.
- ١٤- الجنوب الغربى.
- ١٥- الجنوب الشرقى.
- ١٦- النسبة بين المسافه على الخريطة وما يقابلها على الطبيعة.
- ١٧- كتابى و بيانى وخطى.
- ١٨- الأماكن وموقعها.
- ١٩- افريقيا واسيا وأوروبا.
- ٢٠- امريكا الشمالية و امريكا الجنوبيه و استراليا و انتاركتيكا.



## دراسات اجتماعية الصف الرابع الابتدائى



- ٢١- افريقيا – القديم.
- ٢٢- الشمالى الشرقى – البحر الأحمر و البحر المتوسط.
- ٢٣- المتوسط – الأحمر.
- ٢٤- السويس.
- ٢٥- الأطماع الاستعمارية.
- ٢٦- خطوط تحدد الدولة وتفصلها عن جيرانها من الدول وتحفظ حقوقها داخل هذه الحدود.
- ٢٧- حدود بشرية و حدود طبيعية.
- ٢٨- الإنسان.
- ٢٩- الله – البحار و الأنهار والجبال.
- ٣٠- الأحمر – العقبة – طبيعیه بحرية.
- ٣١- برية.
- ٣٢- برية – ليبيا.
- ٣٣- المتوسط – بحرى.
- ٣٤- برية – السودان.
- ٣٥- الحدود الإدارية.
- ٣٦- ٢٧.
- ٣٧- القاهرة.
- ٣٨- أحياء – مراكز.
- ٣٩- شكل الأرض بما تتضمنه من مرتفعات وسهول ومنخفضات.
- ٤٠- جبال – هضاب – تلال.
- ٤١- ساحلية – فيضية.
- ٤٢- المرتفعة.
- ٤٣- متوسطه الأرتفاع.
- ٤٤- السهول.
- ٤٥- المنخفضه.
- ٤٦- المسطحات المائية.
- ٤٧- سانت كاترين.



## دراسات اجتماعية الصف الرابع الابتدائي



- ٤٨- القطارة - ١٣٠.
- ٤٩- ناصر - قارون.
- ٥٠- النيل.
- ٥١- الفخار - الأحجار.
- ٥٢- العصر الحجري القديم - العصر الحجري الحديث - عصر المعادن.
- ٥٣- النحاس - الحديد.
- ٥٤- الفترة الزمنية التي عاش فيها الانسان قبل معرفة الكتابة.
- ٥٥- الفترة الزمنية التي عاش فيها الانسان بعد معرفة الكتابة.
- ٥٦- الهضاب - التنقل - الترحال.
- ٥٧- غير مستقرة - الخوف - القلق.
- ٥٨- النار - التدفئة.
- ٥٩- الوادي - النيل - الزراعة - استئناس الحيوان.
- ٦٠- الطين - البوص - الطوب اللبن.
- ٦١- الزراعة - الكتان - جلود الحيوانات.
- ٦٢- الطين - الصلصال.

### السؤال الثاني:-

### ضع بين القوسين ما تشير إليه العبارة:-

- ١- الصورة.
- ٢- الخريطة.
- ٣- مقياس الرسم.
- ٤- حدود سياسية.
- ٥- حدود بشرية.
- ٦- حدود طبيعية.
- ٧- حدود إدارية.
- ٨- السطح.
- ٩- الجبال.



## دراسات اجتماعية الصف الرابع الابتدائي



- ١٠- الهضاب.
- ١١- سهول ساحليه.
- ١٢- سهول فيضيه.
- ١٣- منسوب سطح البحر.
- ١٤- المنخفضات.
- ١٥- الجزر.
- ١٦- أشباه الجزر.
- ١٧- المحيط.
- ١٨- البحر.
- ١٩- البحيرة.
- ٢٠- خليج.
- ٢١- الأنهار.
- ٢٢- الحفريات.
- ٢٣- النحاس.
- ٢٤- الهير و غليفه.
- ٢٥- المسئوليه.
- ٢٦- الانتماء.
- ٢٧- الولاء.

### السؤال الثالث:-

#### بم تفسر:-

- ١) أهمية عنوان الخريطة.
- ٢) توضيح ما تحتويه الخريطة من بيانات.
- ٣) أهمية مفتاح الخريطة.
- ٤) يساعدنا في قراءة وفهم الخريطة.



## دراسات اجتماعية الصف الرابع الابتدائى



٣) أهمية اتجاه الشمال (سهم الشمال).

- يشير دائماً إلى إتجاه الشمال ويساعدنا فى تحديد باقى الاتجاهات.

٤) أهمية الخريطة.

(١) تساعد الإنسان فى التعرف على الأماكن وموقعها.

(٢) تساعد المعلم فى الشرح.

(٣) تساعد التلميذ فى المذاكرة.

(٤) يستخدمها كثير من الأفراد مثل (الفلاح والطيار والمهندس والسائح).

٥) يطلق على قارات العالم القديم هذا الإسم.

- لأن الانسان سكن فيها وعمرها منذ القدم وتشمل أفريقيا وآسيا وأوروبا.

٦) يطلق على قارات العالم الجديد هذا الإسم.

-لأن الإنسان اكتشفها وعمرها حديثاً وتشمل أمريكا الشمالية وأمريكا الجنوبية واستراليا وانتاركتيكا.

٧) أهميه موقع مصر الجغرافى.

(١) تتوسط قارات العالم القديم (افريقيا وآسيا وأوروبا).

(٢) تقع فى الركن الشمالى الشرقى لقارة أفريقيا.


(٣) تطل على بحرين من أهم بحار العالم وهما البحر الأحمر شرقاً والبحر المتوسط شمالاً.

(٤) زادت أهميه موقع مصر بدرجة كبيرة بعد حفر قناة السويس.

٨) أهميه قناة السويس.

(١) ربطت بين البحرين الأحمر والمتوسط.

(٢) تمر بها مئات السفن المحملة بالسلع والبضائع والبتترول بين دول العالم.



## دراسات إجتماعية الصف الرابع الابتدائى



٩) أهميه إختراع الكتابه (الهير و غليفيه).

- ساعدت المصريين القدماء على تسجيل أحداثهم وأخبارهم وما وصلوا إليه من تقدم فى مختلف المجالات.

١٠) كانت حياة المصرى القديم غير مستقرة فوق الهضاب.

- لأنه كان دائم التنقل والترحال للبحث عن الغذاء وصيد الحيوانات للإنتفاع بها وكانت مملوءة بالخوف والقلق.

١١) أهميه اكتشاف النار.

- استخدمها فى طهى الطعام - والتدفئه - وابعاد الحيوانات المفترسة.

١٢) تبدلت حياة المصرى القديم من التنقل والترحال إلى الاستقرار فى الوادى.

- لأنه اكتشف وجود نهر النيل. - عرف الزراعة واستأنس الحيوان.

١٣) استقرار المصرى القديم فى الوادى.

- لأنه عرف الزراعة فكان لابد من الإستقرار لرعاية المحاصيل والنباتات التى يقوم بزراعتها والحفاظ عليها لأنها تحتاج لعنايه أثناء نموها وبعد نضجها ليبنى ثمارها وبنى المساكن للإقامه فيها.

السؤال الرابع:-

ما النتائج المترتبه على:-


١- زيادة الأطماع الإستعمارية فى السيطرة عليها على مر التاريخ.

٢- زيادة أعداد السفن التى تمر بالقناة والسماح بمرور السفن فى الاتجاهين.

٣- ادى ذلك إلى استقرارها وعدم وجود مشكلات سياسية مع الجيران بخصوص الحدود.

١) صنع أدوات استخدمها فى الزراعة. (٢) صنع ملابس من الكتان وجلود الحيوانات.

(٣) صنع بعض التماثيل من الطين والصلصال.

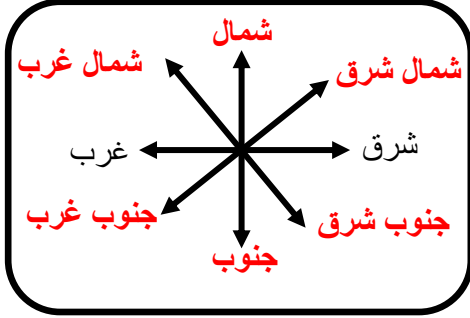


# دراسات اجتماعية الصف الرابع الابتدائى

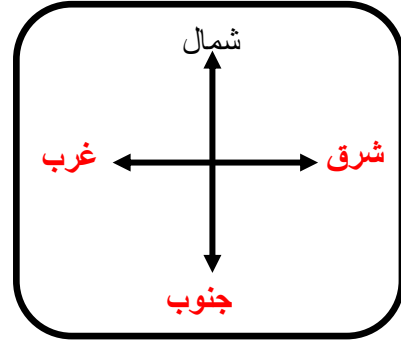


السؤال الخامس:

اكمل الأشكال الآتية:-



الجهات الفرعية



الجهات الأصلية



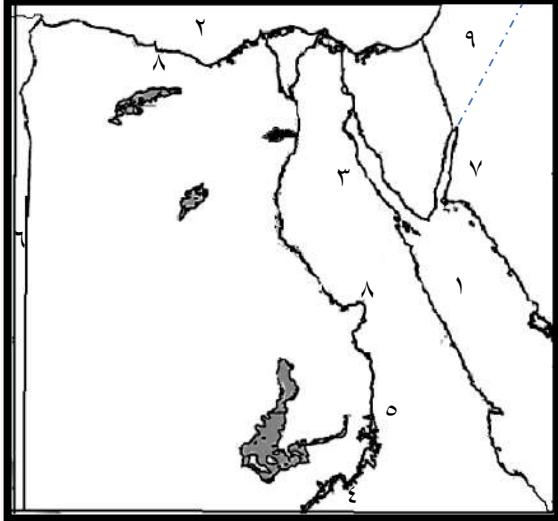


# دراسات اجتماعية الصف الرابع الابتدائى

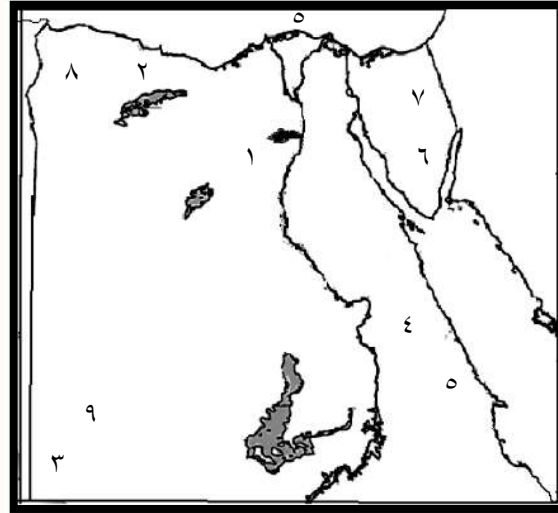


## السؤال السادس:-

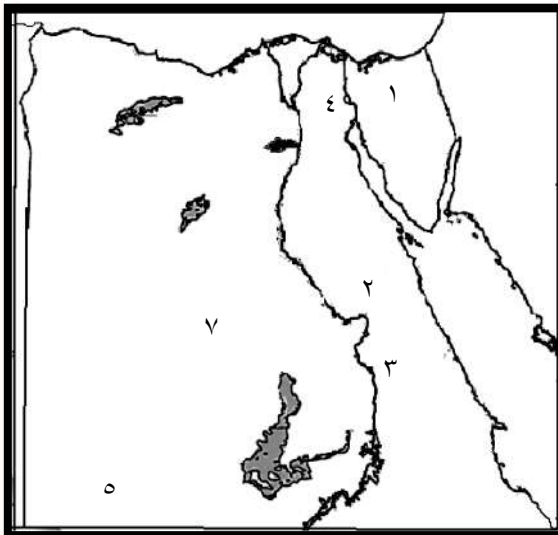
أمامك خرائط صماء لمصر وضع ما تدل عليه الأرقام:-



- (١)
- ١- البحر الأحمر  
٢- البحر المتوسط  
٣- خليج السويس  
٤- بحيرة ناصر  
٥- السد العالى  
٦- دولة ليبيا  
٧- خليج العقبة  
٨- نهر النيل  
٩- دولة فلسطين



- (٢)
- ١- منخفض الفيوم  
٢- منخفض القطارة  
٣- جبل العوينات  
٤- الصحراء الشرقية  
٥- جبال البحر الأحمر  
٦- جبل سانت كاترين  
٧- هضبة التيه  
٨- هضبة مرمريكا  
٩- هضبة الجلف الكبير



- (٣)
- ١- شبه جزيرة سيناء  
٢- الصحراء الشرقية  
٣- نهر النيل  
٤- قناة السويس  
٥- الصحراء الغربية  
٦- دولة السودان

"مع مبادئنا بالنجاح والتوفيق"